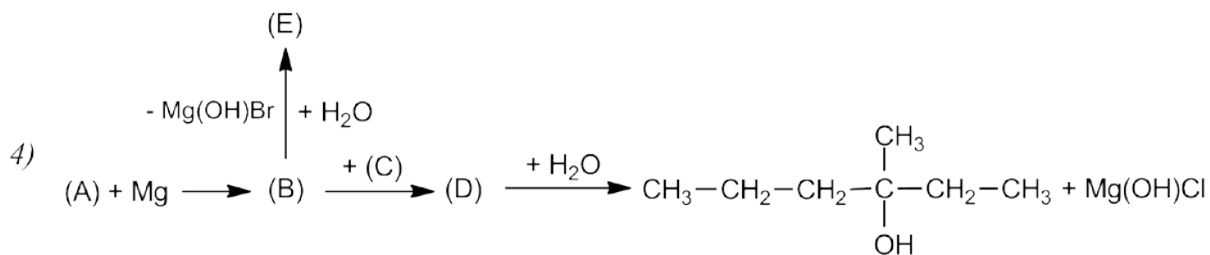
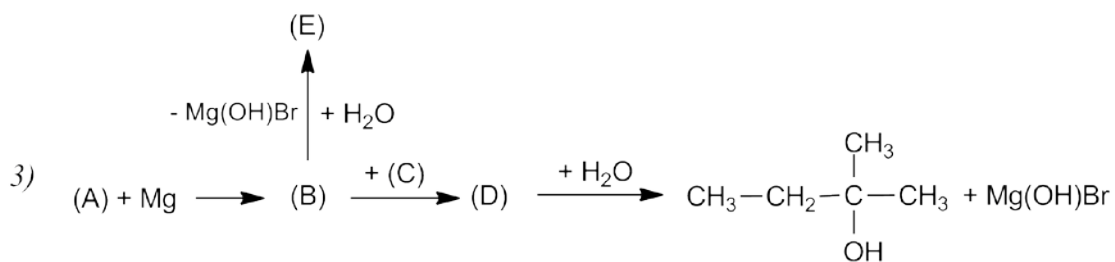
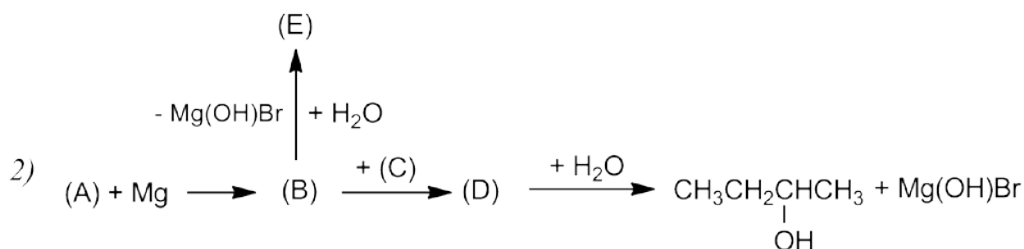
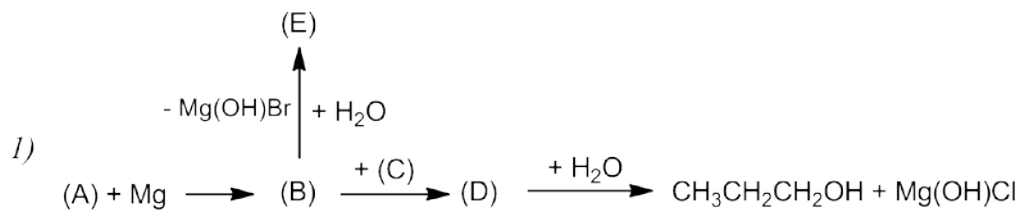


Να βρεθούν οι ενώσεις (A), (C) και (E), στις παρακάτω πέντε σειρές αντιδράσεων:



Απάντηση στην (3):

(A):  $\text{CH}_3\text{CH}_2\text{Br}$ , (C):  $\text{CH}_3\text{COCH}_3$ , (E):  $\text{CH}_3\text{CH}_3$  ή (A):  $\text{CH}_3\text{Br}$ , (C):  $\text{CH}_3\text{CH}_2\text{COCH}_3$ , (E):  $\text{CH}_4$   
(Δύο λύσεις)