

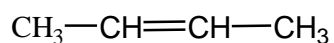
ΥΔΡΟΓΟΝΑΝΘΡΑΚΕΣ

- | | |
|-------------|---------------------|
| 1) Μεθάνιο | 7) Προπένιο |
| 2) Αιθάνιο | 8) 1-Πεντένιο |
| 3) Προπάνιο | 9) 2-Πεντένιο |
| 4) Βουτάνιο | 10) 1,3-Βουταδιένιο |
| 5) Πεντάνιο | 11) Προπίνιο |
| 6) Εξάνιο | 12) 2-Πεντίνιο |

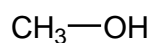
ΕΝΩΣΕΙΣ ΜΕ ΔΙΑΚΛΑΔΩΣΗ ΚΑΙ ΕΝΩΣΕΙΣ ΜΕ ΔΕΥΤΕΡΕΥΟΘΣΕΣ ΧΑΡΑΚΤΗΡΙΣΤΙΚΕΣ ΟΜΑΔΕΣ

- | | |
|--------------------------|-----------------------------|
| 1) 2-Μεθυλοπεντάνιο | 7) Νιτρομεθάνιο |
| 2) 3-Μεθυλοπεντάνιο | 8) 1,1-Διχλωροαιθάνιο |
| 3) 2,2,4-Τριμεθυλοεξάνιο | 9) 2-Βρωμοβουτάνιο |
| 4) 4-Αιθυλοεπτάνιο | 10) 1-Βρωμο-3-χλωροβουτάνιο |
| 5) 5-Μεθυλο-2-εξένιο | 11) 4-Νιτρο-2-πεντένιο |
| 6) 4-Αίθυλο-2-επτίνιο | 12) 2-Ιωδο-4-μεθυλοπεντάνιο |
| | 13) 4-Βρωμο-1-βουτένιο |

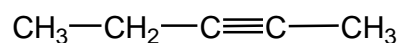
Να ονομαστούν οι παρακάτω ενώσεις:



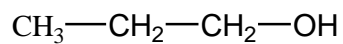
(1)



(2)



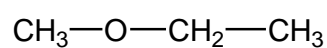
(3)



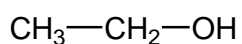
(4)



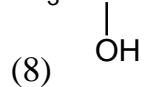
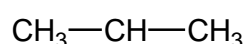
(5)



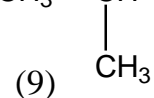
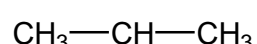
(6)



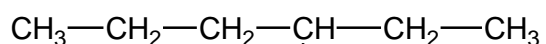
(7)



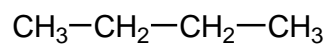
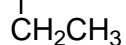
(8)



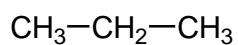
(9)



(10)



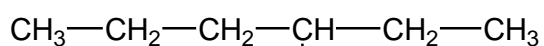
(11)



(12)



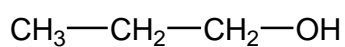
(13)



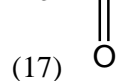
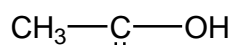
(14)



(15)



(16)



(17)